



Comparaison du climat en Guadeloupe et en France métropolitaine



Objectif :

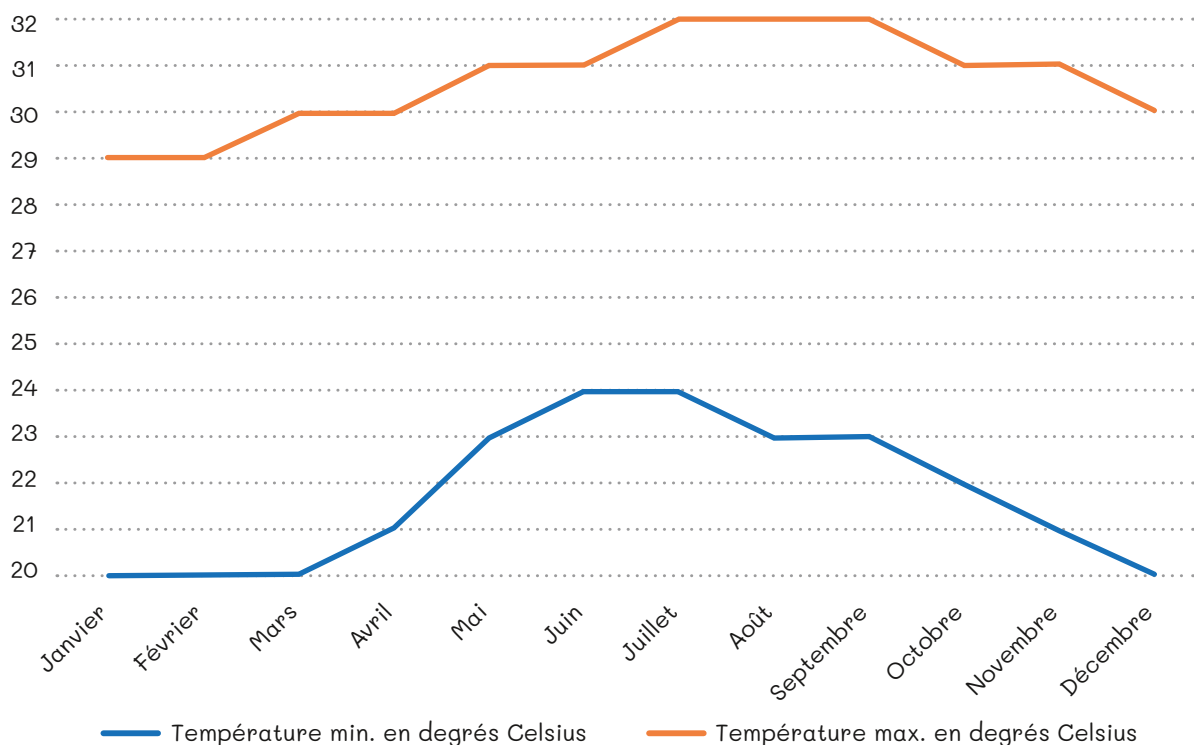
Savoir lire des tableaux à double entrée et des graphiques (courbe, diagramme à bâtons).

⌘ Tableau des températures moyennes en **Guadeloupe** :

Mois	Janvier	Février	Mars	Avril	Mai	Juin
Température Min. / max.	20°C / 29°C	20°C / 29°C	20°C / 30°C	21°C / 30°C	23°C / 31°C	24°C / 31°C
Mois	Juillet	Août	Septembre	Octobre	Novembre	Décembre
Température Min. / max.	24°C / 32°C	23°C / 32°C	23°C / 32°C	22°C / 31°C	21°C / 31°C	20°C / 30°C

⌘ Courbe des températures min. et max. :

Le climat en **Guadeloupe**

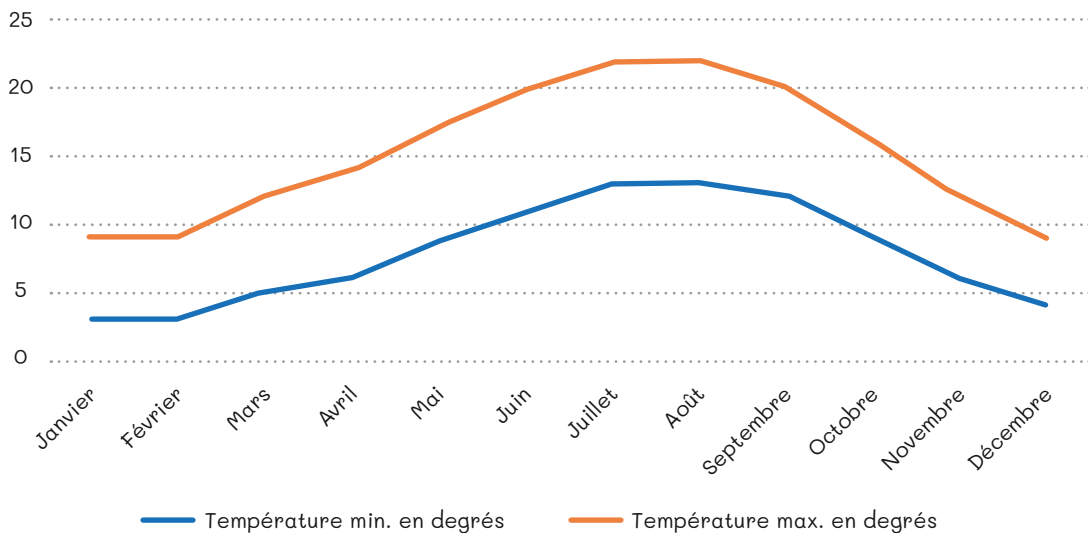




Comparaison du climat en Guadeloupe et en France métropolitaine

⌘ Observe le tableau et les courbes de températures en **Guadeloupe**. Grâce aux courbes de températures de la **côte atlantique française** ci-dessous, construis ton propre tableau de données et réponds aux questions :

Le climat sur *la côte atlantique en France métropolitaine*



1. Quelles sont les différences que tu observes entre le **climat de la Guadeloupe** et le **climat de la côte atlantique française** ?

.....

.....

.....

2. D'après la courbe, quels sont les mois les plus chauds en **France métropolitaine** ?

.....



Comparaison du climat en Guadeloupe et en France métropolitaine

3. Quelle est la température minimum au mois de Juin en **France métropolitaine** ?

.....

4. Effectue des recherches sur le climat de la **Guadeloupe** et celui de la **France métropolitaine** :

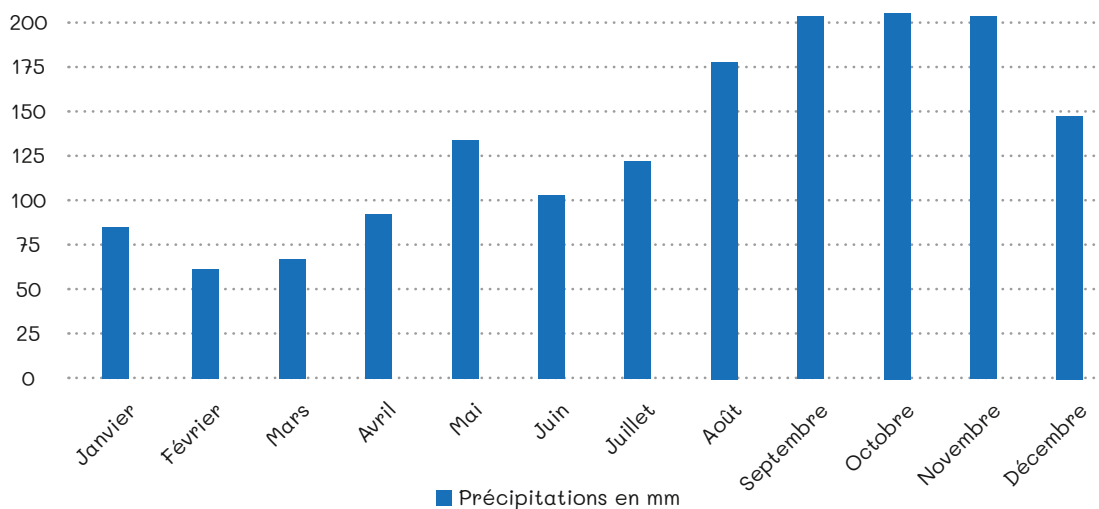
.....

.....

⌘ Tableau des précipitations moyennes en mm en **Guadeloupe** :

Mois	Janvier	Février	Mars	Avril	Mai	Juin
Précipitations en mm	83	64	70	90	131	108
Mois	Juillet	Août	Septembre	Octobre	Novembre	Décembre
Précipitations en mm	122	176	214	228	211	148

Les précipitations en mm en **Guadeloupe**





Comparaison du climat en Guadeloupe et en France métropolitaine

⌘ Observe le tableau et l'histogramme des précipitations en **Guadeloupe** et note tes observations :

.....

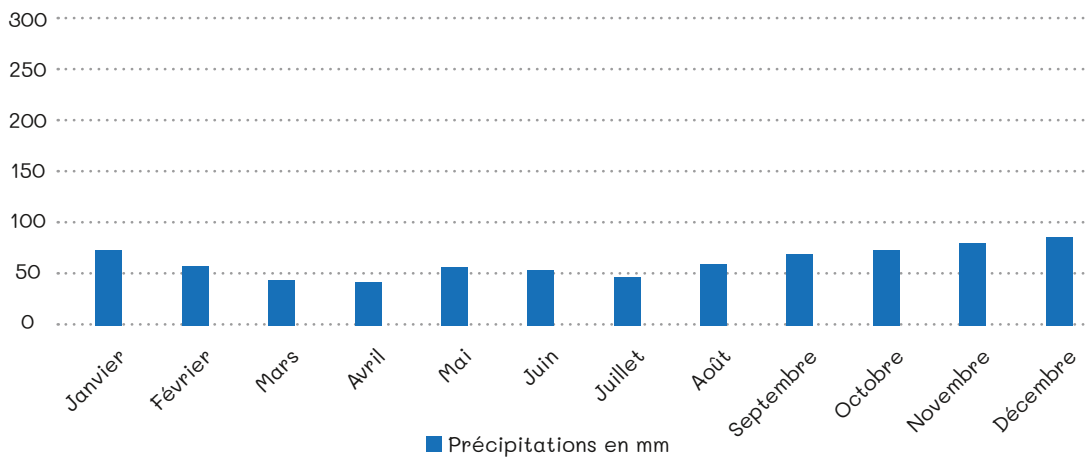
.....

.....

.....

⌘ Grâce à l'histogramme des précipitations de la **côte atlantique française** ci-dessous, construis ton propre tableau de données et réponds aux questions :

Les précipitations moyennes de la **côte atlantique française**



1. Quelles sont les différences que tu observes entre la pluviométrie de la **Guadeloupe** et la pluviométrie sur la **côte atlantique française** ?

.....

.....



Comparaison du climat en Guadeloupe et en France métropolitaine

2. D'après l'histogramme, quel est le mois pendant lequel il pleut le moins **en France métropolitaine** ?

.....

3. Combien de millimètres de précipitations sont tombés au mois de Janvier **en France métropolitaine** ?

.....



Pour aller plus loin

- ✎ Apprends en séance informatique à construire tes tableaux de données, tes courbes et tes histogrammes.
- ✎ Construis ceux du climat de ton lieu de vie.

